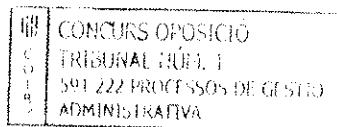




G CONSELLERIA
O EDUCACIÓ
I I UNIVERSITAT
B DIRECCIÓ GENERAL
/ PERSONAL DOCENT



Oposicions 2019
Cos: PROFESSOR TÈCNIC FP
Especialitat: PROCESSOS GESTIÓ
ADMVA
Tribunal núm.: 1
Illa: MALLORCA, MENORCA, EIVISSA

**PROVA 1 : PART B
OPCIÓ A**

INSTRUCCIONS GENERALS
CREA UNA CARPETA I L'ANOMENAU AMB EL VOSTRE CODI PER DESAR ELS
ARXIS ADIENTS DE LA PROVA PRÀCTICA
TEMPS TOTAL DE LA PROVA PRÀCTICA: 3 HORES

EXERCICI 1 (màxim 4 punts)

PART 1 (2 punts)

CAS "MUNAR S.L"

Recomanació inicial

Localitza l'arxiu "casmunar.xls" que trobaràs a l'escriptori, dins d'una carpeta que porta per nom "OPOSICIONS". Crea una còpia d'aquest fitxer. Modifica el nom d'aquesta nova còpia, substituint la paraula "codi" per el teu codi d'usuari. Per exemple, si el teu codi fos 123456, el nom de la còpia hauria de ser "123456_excelmunar". D'aquesta manera, sempre comptaràs amb l'arxiu original sense cap modificació, per si sorgeix algun problema durant l'examen.

Enunciat

Obre l'arxiu que has copiat amb l'aplicació de Microsoft Excel. Després d'observar el contingut, podràs comprovar que aquest document compta amb cinc fulles:

- **Factures:** Conté una taula amb dades de factures de la empresa "Subministraments Munar SL".
- **Temperatures:** Conté una taula amb dades de temperatures registrades de les oficines de l'empresa "Subministraments Munar SL".
- **Resultats:** Conté una taula amb informació de vendes per anys de les oficines de la empresa "Subministraments Munar SL".
- **Treballadors:** Conté una taula amb dades de les nòmines de tots els treballadors de l'empresa "Subministraments Munar SL".
- **Perfils:** Conté una taula amb els perfils dels llocs de treball i el seu preu hora (normal i extra) estipulat per a l'empresa "Subministraments Munar SL".



Realitza les següents operacions:

A) Selecciona el full "*factures*" i aplica les següents modificacions als formats de:

- Nom de l'empresa. Tipus de lletra: Verdana. Estil: negreta. Mida: 18. Combina totes les cel·les de la segona fila del full. Alineació: horitzontal esquerra i vertical a sota. Color de fons: Blau (qualsevol tonalitat).
- Etiqueta "Factures juliol 2018". Tipus de lletra: Verdana. Mida: 15. Combina les primeres cinc cel·les de la fila que conté aquesta etiqueta. Alineació: horitzontal centrada i vertical mig. Vores: només superior i inferior, en color negre i amplada de 0,5 pt.
- Taula de factures. Alçada de totes les files: 17 pt. Alineació: vertical mitjà. Amplada de les tres últimes columnes: 21,13 pt. A més, per a aquestes tres darreres columnes, estableix una alineació horitzontal dreta.
- Capçalera de la taula de factures. Color lletra: blanc. Color de fons: negre.
- Columna "Amb descompte". Color de fons: Gris (tria qualsevol tonalitat), exceptuant la capçalera. Format de número amb només dos decimals, separador de milers i la moneda € al final.
- Columna "Import amb IVA (21%)": Estil de lletra: negreta. Color de fons: Gris (tria una altra tonalitat diferent a l'anterior), exceptuant la capçalera. Format de moneda amb només dos decimals, separador de milers i la moneda € al final.


B) En aquest mateix full, "*factures*", Fixa les sis primeres files del full (inclòs la capçalera de la taula de factures), de tal manera que sempre estiguin visibles en el full i la pantalla, independentment de la fila on posicionis i desplaçis el cursor.

C) En aquest mateix full, "*factures*", en les cel·les de la "*columna amb descompte*", per a cada factura i client calcula l'import final tenint present un possible descompte, aplicant la següent regla: si la quantitat de l'import acumulat supera els 95.000 euros, a aquesta quantitat li restarà un 18% de descompte. Si aquesta quantitat només supera els 45.000 euros, llavors només li restarà un 11% de descompte. En cas contrari, no hi haurà cap descompte que aplicar a l'import, la quantitat es queda igual.

D) En aquest mateix full, "*factures*", Un cop calculat l' import resultant de l'anterior operació, després aplicar-li el possible descompte, suma-li a cada import un IVA del 21% (columna "*Import amb IVA (21%)*"). Quan hagi obtingut totes les xifres amb l'IVA indicat, suma el total d'aquestes quantitats i col·loca aquesta dada a la casella amb fons groc, just a la dreta de l'etiqueta "*TOTAL Facturació*". Trunca el resultat final amb un decimal.



G CONSELLERIA
O EDUCACIÓ
I I UNIVERSITAT
B DIRECCIÓ GENERAL
/ PERSONAL DOCENT



Oposicions 2019
Cos: PROFESSOR TÈCNICS FP
Especialitat: PROCESSOS GESTIÓ
ADMVA
Tribunal núm.: 1
Illa: MALLORCA, MENORCA, EIVISSA

- E) Configura adequadament el full "*factures*" i les seves cel·les de tal manera que només es permeti la modificació de contingut i format de les cel·les de la taula de factures (composta per cinc columnes). A la resta de cel·les, incloses la capçalera de la taula de factures i la cel·la (en groc) que conté el valor de "*TOTAL Facturació*", no es podrà realitzar cap modificació. A més, ha de quedar habilitada l'opció de poder seguir inserint noves files i seguir eliminant algunes files ja creades en la taula de factures.
- F) Selecciona el full "*temperatures*" i tot seguit defineix un interval que tingui com a nom "TEMPREG", que inclogui totes les cel·les que tenen valors de temperatures registrades. A continuació, calcula les dades que se sol·liciten just a sota, utilitzant el nom de l'interval que acabem de definir. Les dades a calcular són la temperatura més repetida, la temperatura mitjana (*Mitjana*), la variància, la desviació estàndard i el nombre de temperatures registrades que superen el valor de la temperatura mitjana.
- G) En aquesta mateixa fulla, "*temperatures*", aplica un format condicional a totes les temperatures registrades, de manera que es ressalti en negreta el nombre i es pinti de color vermell (qualsevol tonalitat) el fons d'aquelles cel·les que continguin un valor que sigui múltiple de vuit.
- H) Selecciona el full "*Resultats*" i crea un diagrama o gràfic, just a la dreta de la taula de vendes. Per generar aquest diagrama, has de seguir les següents indicacions:
- Selecciona tipus gràfic de barres normal. Defineix les sèries del diagrama de tal manera que només apareguin dades de vendes dels anys 2016 i 2017. A l'eix X només s'han de mostrar les oficines PALMA, INCA, MAÓ i EIVISSA. A l'eix Y s'han de mostrar els valors numèrics de les vendes de cada oficina.
 - En l'eix Y, estableix un valor màxim de 11.900.000 euros, un mínim de 0 euros i un interval principal d'1.700.000 euros, format moneda amb dos decimals.
 - A l'eix X, dona-li una orientació de 45 graus a les etiquetes de les oficines.
 - Situa la llegenda amb els anys 2016 i 2017 a la part superior del diagrama.
 - Afegeix un títol al diagrama ("Munar SL"), un altre títol a l'eix X ("Oficines") i un altre títol a l'eix Y ("Import de les vendes").
- I) Selecciona el full "*Treballadors*". Calcula mitjançant una fórmula el valor de cada cel·la de les columnes "Preu hora" i "preu hora extra" (HE), tenint present la taula de perfils (la trobaràs en el full "*Perfils*") i el lloc de treball (professió) que ocupa en l'empresa cada treballador. Realitza aquest càlcul amb una "única" fórmula a la cel·la (E7).
- J) En aquest mateix full, "*Treballadors*", un cop calculats els valors indicats en l'anterior operació, calcula el valor de la nòmina final de cada treballador, mitjançant una suma dels



G CONSELLERIA
O EDUCACIÓ
I I UNIVERSITAT
B DIRECCIÓ GENERAL
/ PERSONAL DOCENT

Oposicions 2019
Cos: PROFESSOR TÈCNICS FP
Especialitat: PROCESSOS GESTIÓ
ADMVA
Tribunal núm.: 1
Illa: MALLORCA, MENORCA, EIVISSA

productes: hores treballades ("Hores / mes") pel preu hora ("Preu hora") i hores extres treballades ("HE FETES") pel preu d'hora extra ("Preu HE"). Aplica un format de número amb separador de milers, moneda € al final i sense decimals.

- K) En aquest mateix full, "Treballadors", quan ja tinguis totes les nòmines finals dels treballadors de l'empresa, calcula la despesa (*Despesa*) total de les nòmines. Aquest valor s'ha de col·locar a la cel·les en groc que apareixen al final de la taula, al costat de dues cel·les més en groc, que també hauràs de calcular: la mitjana (*Mitjana*) de les nòmines que cobren les dones (D) en aquesta empresa i la mitjana (*Mitjana*) de les nòmines que cobren els homes (H) en aquesta empresa. Els resultats d'aquestes mitjanes han de ser arrodonits a xifres senceres (sense decimals). Aplica a les tres cel·les un format de número amb separador de milers, la moneda € al final i sense decimals.

Recomanació final.

Un cop finalitzat l'exercici només es presentarà un arxiu amb la següent estructura: "vostre codi_excelmunar".

El tribunal corregirà únicament el contingut d'aquest arxiu.



G CONSELLERIA
 O EDUCACIÓ
 I I UNIVERSITAT
 B DIRECCIÓ GENERAL
 / PERSONAL DOCENT

CÒNCURS OPOSICIÓ
 TRIBUNAL NÚM. 1
 591 222 PROCESSOS DE GESTIÓ
 ADMINISTRATIVA

Oposicions 2019
 Cos: PROFESSOR TÈCNICS FP
 Especialitat: PROCESSOS GESTIÓ
 ADMVA
 Tribunal núm.: 1
 Illa: MALLORCA, MENORCA, EIVISSA

PART 2 (2 punts)

Recomanació inicial

Localitza l'arxiu "casfiradelram.xls" que trobaràs a l'escriptori, dins d'una carpeta que porta per nom "OPOSICIONS". Crea una còpia d'aquest fitxer. Modifica el nom d'aquesta nova còpia, substituint la paraula "codi" per el teu codi d'usuari. Per exemple, si el teu codi fos 123456, el nom de la còpia hauria de ser "123456_excelfira". D'aquesta manera, sempre comptaràs amb l'arxiu original sense cap modificació, per si sorgeix algun problema durant l'examen.

CAS "FIRA DEL RAM"

Un empresari propietari de quatre atraccions de la Fira des Ram vol fer un estudi sobre la recaptació obtinguda al llarg d'una setmana. Per a això obri l'arxiu anomenat "casfiradelram.xls", on la primera fulla (anomenada "recaptació.xls") presenta la següent estructura i dades:

	Nº usuaris "Explorer "	Recaptació	Nº usuaris "Tren Fantas ma"	Recaptació	Nº usuaris "Pop"	Recaptació	Nº usuaris "Autos de xoc"	Recaptació	Recaptació diària
Dimarts	300		420		450		840		
Dimecres	250		350		400		1120		
Dijous	200		580		660		1000		
Divendres	500		750		800		1795		
Dissabte	700		1000		1100		2410		
Diumenge	1000		1200		1300		2800		
Recaptació setmanal									
Mitjana usuaris									

Preu		3,00 €		2,00 €		3,00 €		1,75 €	
-------------	--	--------	--	--------	--	--------	--	--------	--

1. Calcular la recaptació diària (global i per a cada atracció), la recaptació setmanal i la mitjana d'usuaris per a cada atracció (en el Full "recaptació.xls").
2. L'empresari desitja que en el llibre es mostrin gràficament:
 - a. L'evolució del nombre d'usuaris de les diferents atraccions al llarg de la setmana (gràfic de línies, en el full anomenat "Evolució")



G CONSELLERIA
O EDUCACIÓ
I I UNIVERSITAT
B DIRECCIÓ GENERAL
/ PERSONAL DOCENT

Oposicions 2019
Cos: PROFESSOR TÈCNICS FP
Especialitat: PROCESSOS GESTIÓ
ADMVA
Tribunal núm.: 1
Illa: MALLORCA, MENORCA, EIVISSA

- b. Una comparació del nombre d'usuaris de les diferents atraccions al llarg de la setmana (gràfic de columnes, en un full anomenat "Comparació")
- c. La distribució de clients entre les diferents atraccions en els dos darrers dies de la setmana (dos gràfics circulars, inserits en el full anomenat "Distribució")
3. L'empresari vol esbrinar si, amb el nombre mitjà de persones que utilitzen l'atracció "Explorer" cada vegada que aquesta es posa en marxa, obté algun benefici o pateix pèrdues. Per al càlcul (a realitzar en el full anomenat "Explorer") disposa de les següents dades:
- Lloguer del solar (per dia de funcionament): 50 €.
 - Cost d'electricitat per minut de funcionament: 6 €
 - Reparacions i manteniment (part proporcional per minut de funcionament): 0,07€
 - Durada de l'atracció: 5 minuts

S'ha de calcular per separat el cost i la recaptació i obtenir després el saldo en una altra cel·la.

4. L'empresari desitja obtenir una taula per veure el benefici que s'obtindria variant la durada de l'atracció (de 3 a 5 minuts, a intervals de mig minut) i el nombre de funcionaments diaris (de 40 a 50, a intervals d'1). Indicar amb fons vermell els casos en què s'obtenen pèrdues (format condicional).
5. També desitja esbrinar la recaptació que obtindria variant la mitjana d'usuaris (entre 10 i 30, a intervals de 5) i el preu de l'atracció (entre 2 i 4 €, a intervals de 50 ct.). Indicar amb fons vermell els casos en què s'obtenen pèrdues (format condicional)
6. Per a completar el seu estudi, l'empresari ha distribuït entre 5 usuaris assidus de les seves atraccions un imprès en el qual figuren les quatre atraccions i se sol·licita a l'usuari que posi una creu al costat de cadascuna cada vegada que la faci servir i que, abans d'abandonar el recinte firal, dipositi l'imprès en una bústia habilitat a l'efecte davant de la taquilla del "Explorer". En acabar la setmana, obre la bústia i troba els cinc impresos emplenats. Per tal d'introduir les dades, en el full anomenat "Impresos" elabora una taula amb la següent estructura:



G CONSELLERIA
 O EDUCACIÓ
 I I UNIVERSITAT
 B DIRECCIÓ GENERAL
 / PERSONAL DOCENT

CONCURS OPOSICIÓ
 TRIBUNAL NÚM. 1
 591 222 PROCESSOS DE GESTIÓ
 ADMINISTRATIVA

Oposicions 2019
 Cos: PROFESSOR TÈCNICS FP
 Especialitat: PROCESSOS GESTIÓ
 ADMVA
 Tribunal núm.: 1
 Illa: MALLORCA, MENORCA, EIVISSA

Nº atracció	Nom atracció	Nº usos	Despesa	Temps	PUJAR PREU
1		3			
2		0			
3		2			
4		6			
1		1			
2		2			
3		0			
4		4			
1		5			
2		1			
3		0			
4		3			
1		2			
2		3			
3		2			
4		1			
1		0			
2		4			
3		1			
4		7			

Aquesta taula haurà de funcionar de la següent manera:

- El nom de l'atracció ha d'aparèixer en teclejar el seu número corresponent.
- En introduir el nombre d'usos, han de calcular automàticament tant la despesa com el temps invertit en l'atracció.
- A la columna "PUJAR PREU" ha d'aparèixer "SI" en cas que el nombre d'usos hagi estat igual o superior a 5, i res en un altre cas. Deixar filtrades aquestes files.

Per fer possible aquestes darreres instruccions serà necessari introduir a qualche lloc la següent taula:

Nº atracció	Atracció	Preu	Duració (en minuts)
1	Explorer	3 €	5
2	El tren fantasma	2 €	7
3	Pop	3 €	4
4	Autos de xoc	1,75 €	3

Recomanació final.

Un cop finalitzat l'exercici només es presentarà un arxiu amb la següent estructura: "vostre codi_excelfira".

El tribunal corregirà únicament el contingut d'aquest arxiu.



G CONSELLERIA
O EDUCACIÓ
I I UNIVERSITAT
B DIRECCIÓ GENERAL
/ PERSONAL DOCENT

Oposicions 2019
Cos: PROFESSOR TÈCNICS FP
Especialitat: PROCESSOS GESTIÓ
ADMVA
Tribunal núm.: 1
Illa: MALLORCA, MENORCA, EIVISSA

EXERCICI 2 (màxim 2,5 punts)

Hem adquirit al nostre proveïdor GORRETASA els següents articles:

- Article BK- 450 unitats a 20 € / unitat. Promoció: per cada 75 unitats pagades ens bonifiquen amb un paquet de 4 unitats (IVA 21%).
- Article FF 660 unitats a 26 € / unitat. Promoció: per cada 60 unitats pagades ens bonifiquen amb un paquet de 6 unitats (IVA 10%).
- Article ZZ 1.300 unitats a 15 € / unitat. Promoció: per cada 50 unitats pagades ens bonifiquen amb un paquet de 5 unitats (IVA 4%).

En les següents condicions:

- El Transport és de 964 € i les assegurances 482 €, que es reparteixen en funció de les unitats.
- Descompte comercial 2%. Ràpels el 3% per a compres superiors a 15.000 €. Descompte per ràpid pagament 2% per a tots els articles.

a) Càlcul de la factura i el preu d'adquisició.

b) Desglossament de l'operació i imports si les despeses són despeses bestretes

EXERCICI 3 (màxim 2,5 punts)

L'empresa SOLLEROLIVA, durant l'any 2018, va posar al mercat:

- 600.000 litres d'oli d'oliva en envasos de vidre, cada ampolla de vidre pesava 420 grams i porten un tap d'alumini que pesa 1,25 grams.
- 1.600.000 litres d'oli d'oliva en garrafes de plàstic de 5 litres, cada garrafa pesa 130 grams i porta un tap amb una nansa de plàstic que pesa 1,60 grams.
- 800.000 litres d'oli d'oliva en ampolles de plàstic d'un litre, cada envàs pesa 30 grams amb el tap inclòs.
- 1.200.000 litres d'oli d'oliva en ampolles de plàstic de dos litres, cada envàs pesa 50 grams amb el tap inclòs.
- Les ampolles de vidre i les ampolles de plàstic d'un litre d'oli es comercialitzen en caixes de cartó de 10 unitats. Cada caixa de cartó pesa 250 grams.
- Les garrafes de 5 litres van quatre juntes, i estan unides per un element de fixació d'anelles de plàstic que pesa 4 grams.
- També ha venut a diversos hotels 840.000 litres d'oli en bidons d'acer, cada bidó conté 50 litres i té un pes de 5 quilograms, aquests són retornats a l'empresa a través d'un servei de recollida una vegada que estan buits.



G CONSELLERIA
O EDUCACIÓ
I I UNIVERSITAT
B DIRECCIÓ GENERAL
/ PERSONAL DOCENT

CONCURS OPOSICIÓ
TRIBUNAL NÚM. 1
391 222 PROCESSOS DE GESTIÓ
ADMINISTRATIVA

Oposicions 2019
Cos: PROFESSOR TÈCNICS FP
Especialitat: PROCESSOS GESTIÓ
ADMVA
Tribunal núm.: 1
Illa: MALLORCA, MENORCA, EIVISSA

Calcula el cost que li suposarà a aquesta empresa la logística inversa, en la seva part de recuperació d'envasos, l'any 2019.

EXERCICI 4 (1 punt)

Un treballador fa feina de caixer a l' empresa des de fa més de sis anys ininterrompudament. El 4 de novembre es fa mal a una cama jugant a futbol. Està de baixa fins el 27 de novembre. La seva BCC d'octubre és de 1.350. Si té dret a la prestació per IT: calcula la base reguladora, període de cobrament, import del subsidi i qui ho paga.



G CONSELLERIA
O EDUCACIÓ
I I UNIVERSITAT
B DIRECCIÓ GENERAL
/ PERSONAL DOCENT

CONCURS OPOSICIÓ
TRIBUNAL NÚM. 1
591 222 PROCESSOS DE GESTIÓ
ADMINISTRATIVA

Oposicions 2019
Cos: PROFESSOR TÈCNICS FP
Especialitat: PROCESSOS GESTIÓ
ADMVA
Tribunal núm.: 1
Illa: MALLORCA, MENORCA, EIVISSA

FORMAT DELS DOCUMENTS:

- Times New Roman 12
- Interlineat d'1,5 punts
- Espai entre paràgrafs: 10 punts
- Marges superior i inferior: 2 cm
- Marges dreta i esquerra: 2.5 cm

INSTRUCCIONS

Crea un arxiu word en blanc on inclogui la notificació i el decret.

L'arxiu ha de tenir la següent estructura: "vostre codi_word".



G CONSELLERIA
O EDUCACIÓ
I I UNIVERSITAT
B DIRECCIÓ GENERAL
/ PERSONAL DOCENT

Oposicions 2019
Cos: PROFESSOR TÈCNICS FP
Especialitat: PROCESSOS GESTIÓ
ADMVA
Tribunal núm.: 1
Illa: MALLORCA, MENORCA, EIVISSA

EXERCICI 4 (màxim 2 punts)

Formalització d'impresos oficials de l'Administració Pública

La llei 39/2015, d'1 d'octubre, del Procediment Administratiu Comú de les Administracions Públiques, preveu que quan un interessat presenti una sol·licitud davant l'Administració i, resultes de la mateixa, s'inicia un procediment, pot donar-se el cas que s'hagi d'exigir al mateix que compleixi amb determinats requeriments, per evitar de declarar la caducitat del procediment.

En una hipòtesis, un interessat, anomenat Miguel Sánchez Rojo, amb DNI 39273070H, amb domicili al C/ Ca'n Barrera, 3 de Marratxí (CP: 07141) va realitzar una reclamació patrimonial per danys a la seva vivenda i provocades, presumptament, per unes obres públiques d'embelliment realitzades per l'Ajuntament de Marratxí. El nº d'expedient de la reclamació patrimonial és el 4/444/2019, i amb registre d'entrada del 07/02/2019.

L'Ajuntament en qüestió inicia un procediment on demana a l'interessat que aporti un pressupost dels danys patrimonials signats per un enginyer col·legiat i un plànol de la vivenda, ja que al moment de la reclamació no les va incloure. L'Ajuntament reclama aquesta documentació ja que és necessària per a una correcta resolució del procediment.

Per tant, **es sol·licita** que:

Es redacti la notificació en el que s'efectua l'advertència de caducitat i posteriorment, el Decret de caducitat que resol el procediment on es confirma la caducitat, sempre indicant i fonamentant-se amb el règim legal actual sobre els procediments administratius i la seva caducitat.

RÈGIM LEGAL DEL PROCEDIMENT: Llei 39/2015, d'1 d'octubre, del Procediment Administratiu Comú de les Administracions Públiques

BATLE DE MARRATXÍ: Joan Antoni Thomas Mestre

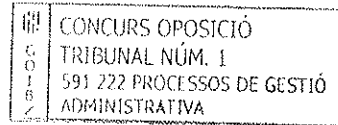
SECRETARI DE L'AJUNTAMENT: Jaume Pintó Canals

INSTRUCTORA DE L'EXPEDIENT : Antònia Llabrés Riutort

DIA DE LA NOTIFICACIÓ D'ADVERTÈNCIA DE LA CADUCITAT: 19/02/2019



G CONSELLERIA
O EDUCACIÓ
I I UNIVERSITAT
B DIRECCIÓ GENERAL
/ PERSONAL DOCENT



Oposicions 2019
Cos: PROFESSOR TÈCNICS FP
Especialitat: PROCESSOS GESTIÓ
ADMVA
Tribunal núm.: 1
Illa: MALLORCA, MENORCA, EIVISSA

Una vegada pagada la factura el departament comptable observa que no és correcta, ja que havien pactat amb ell pels treballs d'assessorament un descompte del 5%, i no ho havia aplicat a la factura, reclamen i el Sr. Fernando emet la documentació corresponent.

Treball a realitzar:

- Retencions i ingressos a compte de l'IRPF efectuat el primer trimestre per OPOARTASA classificats per classe de renda. Aquest apartat s'haurà de realitzar en una taula d'Excel.
- Grellat o taula amb la seva corresponent explicació i imports, que presenta el Sr. Fernando Alonso a OPOARTASA.

Les taules d'Excel s'hauran de guardar en la vostra carpeta amb el nom "el vostre codi_IRPF"

EXERCICI 3 (màxim 1,5 punts)

Calcula la declaració que ha de presentar l'empresa Mayorista OPOSICIONS19 SA, el quart trimestre de l'any

Les operacions que han fet en aquest trimestre son:

Vendes (iva i recàrrec no inclosos)

- Productes sotmesos al tipus del 10%: 40.000 €, dels quals 10.000 € se han venut a detallistes en règim de R.E.
- Productes sotmesos al tipus del 21%: 50.000 €, dels quals 15.000 € se han venut a detallistes en règim de R.E.

Compres i despeses (iva no inclòs)

- Productes sotmesos al 4%: 20.000 €
- Productes sotmesos al 10%: 10.000 €
- Productes sotmesos al 21%: 14.000 €
- Pagament dels serveis d'un advocat: 1.500€
- Pagament del lloguer d'una oficina: 3.000 €
- Pagament dels interessos d'un préstec: 1.600 €
- Sous de treballadors : 25.000 €
- Compra d'una furgoneta per el repartiment de mercaderies: 22.000 €

Altres dades

- Compra de maquinaria a Canadà: 7.000 €
- S'ha comprat una màquina a Alemanya per 16.000 €
- Venda de productes acabats a Xile: 40.000 €
- S'ha enviat mercaderies a França per 18.000 €

Si la declaració fos negativa hauria de sol·licitar la devolució del saldo al seu favor. La empresa ha de compensar el saldo a favor seu del trimestre anterior (3.535 €)



G CONSELLERIA
O EDUCACIÓ
I UNIVERSITAT
B DIRECCIÓ GENERAL
/ PERSONAL DOCENT

Oposicions 2019
Cos: PROFESSOR TÈCNICS FP
Especialitat: PROCESSOS GESTIÓ
ADMVA
Tribunal núm.: 1
Illa: MALLORCA, MENORCA, EIVISSA

El 26 de juny, compra a ALUMITESA,
•1.000 de AAA a 3,59€ la unitat (IVA inclòs).
•900 de CCC a 5,30€ la unitat (IVA inclòs).

Treball a realitzar

- Calcular existències finals. S'han de realitzar en Excel les dues fitxes de magatzem i s'ha de guardar l'arxiu en la vostra carpeta amb el nom "**vostre codi_fitxes de magatzem**".
- Calcular import de les vendes si l'empresa treballa amb un marge del 160%.
- Benefici del mes

EXERCICI 2 (màxim 2,5 punts)

Empresa OPOARTASA NIF A-07000545. Domiciliada en Avinguda Comte de Sallent, 13 Palma de Mallorca 07020.

Dades corresponents al primer trimestre.

Treballador	Base subjecta a retenció de l'IRPF	IRPF
Francisco Mínguez Aguiló	9.890	20%
Felipe Mas Prieto	6.120	19%
Vicente García Soler	4.830	17%
Cristina Solís Olvido	3.100	2%

Ha lliurat Premis als següents clients:

- Ana Rosa Pérez un cotxe valorat a preu de cost en 14.400€.
- Laura Montes Álvarez un premi dinerari de 1.500€.

L'enginyer Joan Alomar Pons ha presentat dues factures, la primera amb una Base imposable de 8.470€ i la segona amb una B.I. de 1.580€.

L'empresa, en l'exercici anterior, ha tingut un import net xifra negoci de 880.650€. S'han retribuït amb 1.200€ a cada un dels següents administradors:

- Esther Castell
- Jesús Pons

S'ha pagat a Manuel Adrover 1.680€ per realitzar un curs als treballadors.

El Sr. Ramón Roca, advocat amb NIF 43.154.546P, ha presentat per assessorament i representació jurídic, una factura amb una base imposable de 960€. Aquest és el segon any que treballa.

El Sr. Fernando Alonso, advocat amb NIF 44.589.650K, ha fet diversos treballs d'assessorament jurídic, presenta uns honoraris de 4.550€ i una factura a nom de OPOARTASA, que havia pagat pel seu compte, per import total de 860€. Aquest és el primer any que exerceix com advocat, anteriorment havia exercit 4 anys com assessor fiscal.



G CONSELLERIA
O EDUCACIÓ
I I UNIVERSITAT
B DIRECCIÓ GENERAL
/ PERSONAL DOCENT

CONCURS OPOSICIÓ TRIBUNAL NÚM. 1 591 222 PROCESSOS DE GESTIÓ ADMINISTRATIVA
--

Oposicions 2019
Cos: PROFESSOR TÈCNICS FP
Especialitat: PROCESSOS GESTIÓ
ADMVA
Tribunal núm.: 1
Illa: MALLORCA, MENORCA, EIVISSA

**PROVA 1 : PART B
OPCIÓ B**

INSTRUCCIONS GENERALS
CREA UNA CARPETA I L'ANOMENAU AMB EL VOSTRE CODI PER DESAR ELS
ARXIS ADIENTS DE LA PROVA PRÀCTICA
TEMPS TOTAL DE LA PROVA PRÀCTICA: 3 HORES

EXERCICI 1 (màxim 4 punts)

L'empresa TOPOSICIÓ S.A., amb domicili en l' Av. 16 de Juliol núm. 14 de Palma de Mallorca i CIF A/07891245, es dedica a la compra d'articles per a la seva posterior venda. En aquest supòsit ens centrarem en 2 articles. IVA del 21%.

Existències inicials a l'1 de JUNY de 2019:

- Art. AAA 1.550 unitats a 2,3€ la unitat criteri PMP.
- Art. CCC 4.190 unitats a 4€ la unitat criteri FIFO.

El 5 de juny rep de ALUMITESA, els següents articles:

- 530 unitats de l'art. AAA a 2€ la unitat.
- 660 unitats de l'art. CCC a 4,5€ la unitat.

Despeses de transports 476€ descompte 2%. Les despeses es reparteixen segons la constant de proporcionalitat K.

El 6 de juny, venda a RABESA:

- 1.870 unitats AAA.
- 4.050 unitats CCC.

El 12 de juny rep de JUNQUESA, els següents articles:

- 1.960 unitats de l'art. AAA a 3,10€ la unitat.
- 2.680 unitats de l'art. CCC a 4,90€ la unitat.

Despeses de transports 230€. Assegurances 120 €. Les despeses es reparteixen segons la constant de proporcionalitat K.

El 18 de juny ven a l'empresa BOASA els següents articles:

- 1.060 unitats de l'art. AAA.
- 1.170 unitats de l'art. CCC.

El 20 de juny BOASA els retorna 80 unitats de AAA i 20 de CCC.

El 22 de juny, compra a BUTASA:

- 2.500 unitats de AAA a 5,10€ la unitat.
- 3.200 unitats de CCC a 4,80€ la unitat.

El 23 de juny, venda a REPTAVA:

- 3.350 de AAA.
- 2.500 de CCC.